

Nombre: _____

Fecha: _____

SUCESIONES DE FIGURAS 2

INDICACIONES: Observa atentamente las sucesiones con progresión geométrica, completa las figuras que hacen falta y contesta correctamente las preguntas.

A)



Figura 1




Figura 2

Figura 3

Figura 4

B)



Figura 1




Figura 2

Figura 3

Figura 4

C)



Figura 2




Figura 3

Figura 4

Figura 1

D)



Figura 1



Figura 2

Figura 3

Figura 4

1. ¿A qué razón aumentan las figuras del inciso A? _____
2. ¿Cuántas estrellas habría en la figura 6 del inciso A? _____
3. ¿Cuántos puntos habría la figura 7 del inciso B? _____
4. ¿Cuántos puntos aumentan en cada lado del inciso B? _____
5. ¿A qué razón aumentan las figuras del inciso C? _____
6. ¿A qué razón aumentan las figuras en cada lado del inciso C? _____
7. ¿Cuántas líneas habría en la figura 12 del inciso D? _____
8. ¿Cuántos puntos aumentó de la figura 3 a la 4 en el inciso C? _____
9. ¿Cuántas estrellas habría de cada lado en la figura 8 del inciso A? _____
10. ¿Cuántas líneas habría de cada lado en la figura 7 del inciso D? _____