

Nombre: _____

Fecha: _____

SUCESIONES DE FIGURAS 01

INDICACIONES: Observa atentamente las sucesiones en cada inciso, completa las que hacen falta y contesta correctamente las preguntas.

A)



Figura 4

Figura 5

B)

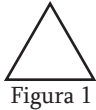


Figura 3



Figura 5

C)

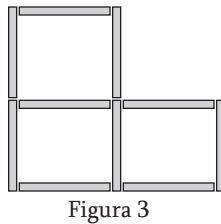
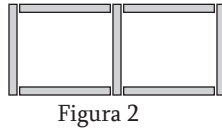
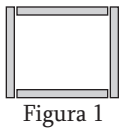
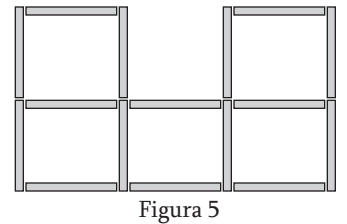


Figura 4



D)

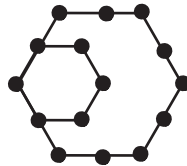


Figura 5

E)

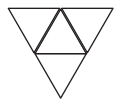


Figura 3

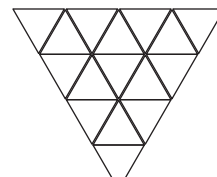


Figura 5

1. ¿Cuántas estrellas aumentan en cada figura del inciso A? _____
2. ¿Cuántas estrellas habría en la figura 8 del inciso A? _____
3. ¿Cuántas puntas habría la figura 7 del inciso B? _____
4. ¿Cuántas puntas aumentan en cada figura del inciso B? _____
5. ¿Cuántos tubos habría en la figura 10 del inciso C? _____
6. ¿Cuántos tubos habría en la figura 15 del inciso C? _____
7. ¿Cuántos puntos habría en la figura 12 del inciso D? _____
8. ¿Cuántos puntos aumentó de la figura 3 a la 4 en el inciso D? _____
9. ¿Cuántos triángulos dibujaste en la figura 5 del inciso E? _____
10. ¿Cuántos triángulos habría en la figura 9 del inciso E? _____